

3ª SEMANA : 27/30 abril

CORRECCIONES

LUNES

**CREE EN TI MISMO Y EN LO QUE ERES.
SE CONSCIENTE DE QUE HAY ALGO EN
TU INTERIOR QUE ES MÁS GRANDE
QUE CUALQUIER OBSTÁCULO.**



ÁREA: LENGUA

LEE EL TEXTO, COPIA LOS ENUNCIADOS DE LAS PREGUNTAS EN TU CUADERNO Y RESPÓNDELAS. SI SON DE RESPUESTA MÚLTIPLE, RESPONDE COPIANDO SOLO LA RESPUESTA CORRECTA.

1. ¿Qué es este texto?

Una noticia sobre Eduardo Valcárcel de un periódico digital.

2. ¿Cuál crees que es la finalidad de este texto?

Informar sobre el ejemplo de superación que representa el director de la escuela de la Fundación de la RFEF.

3. Identifica y escribe: el titular de la noticia, el puesto de Eduardo Valcárcel en la Real Federación Española de Fútbol y su lugar de nacimiento.

Titular: Eduardo Valcárcel, dos muletas y un sueño cumplido en el fútbol.

Puesto de Eduardo Valcárcel: director de la Escuela de la Fundación RFEF

Lugar de nacimiento: San Sebastián.

4. ¿Por qué Eduardo Valcárcel tiene una pierna nada más? Y, ¿por qué guardó su pierna ortopédica en un armario y decidió utilizar siempre sus muletas?

Por un accidente que sufrió antes de cumplir los dos años.

Porque sin ella y con las muletas podía jugar al deporte que amaba.

5. ¿Por cuál de las siguientes palabras podrías sustituir, sin cambiar el significado de esta oración, la palabra subrayada?

Siempre recuerda el episodio que vivió hace unos años, cuando cogió su bicicleta y muletas y se puso en marcha para hacer un tramo del Camino de Santiago.

Trozo

6. ¿Quién es él en la siguiente oración? Elige una de las siguientes opciones.

Como él mismo dice, "la vida es la actitud de cada día, tus valores son lo prioritario, demuestra que quieres las cosas".

El director de la escuela de la Fundación de la RFEF.

7. En el penúltimo párrafo, se explica que Eduardo Valcárcel viajó a una ciudad china. ¿A qué ciudad viajó y para qué? ¿Cuál fue el resultado del partido?

A Shangai para jugar el torneo internacional. 6 a 2.

8. ¿En la siguiente oración, ¿cuál de los siguientes significados crees que tiene la palabra subrayada?

En septiembre de 2012 fue el seleccionador Sub-12 en la fase final de la Danone Nations Cup, entrenando a algunos de los mayores talentos nacionales de la categoría.

talento. (Del lat. talentum, y este del gr. τάλαντον, plato de la balanza, peso).

3. m. Persona inteligente o apta para determinada ocupación.

9. El texto acaba así:

Ahora ha sido la Sub-12, pero como consigue todo lo que se propone... ¿acabará siendo el seleccionador de conjuntos como la Sub-17 o Sub-19 en Campeonatos de Europa? Para Valcárcel querer es poder.

Explica con tus propias palabras el significado de la expresión querer es poder.

RESPUESTA MODELO: Si ponemos voluntad y esfuerzo para conseguir un objetivo, podremos alcanzarlo.

ÁREA: MATEMÁTICAS

La montaña rusa más grande del mundo

En esta tabla se recogen las tres montañas rusas más impresionantes y más grandes del mundo. Esta clasificación se realiza atendiendo a la altura, la caída, la longitud y la velocidad.

	altura	longitud	caída	velocidad
1.º King Da Ka (EEUU)	139 metros	950 metros	127 metros	206 kilómetros por hora
2.º Steel Dragon 200 (JAPÓN)	97 metros	2.479 metros	93 metros	153 kilómetros por hora
3.º Top Thrill Dragster (EEUU)	128 metros	853 metros	122 metros	193 kilómetros por hora

1. ¿Cuál es la longitud de cada montaña redondeada a la centena?

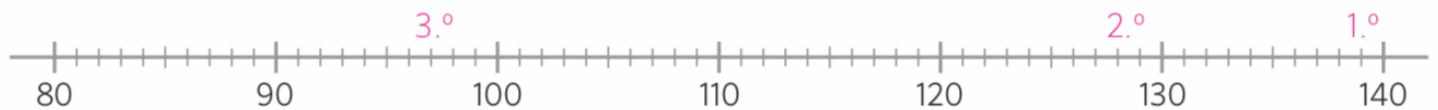
King Da Ka : 1.000 m Steel Dragon 200: 2.500 m Top Thrill Dragster: 900

2. Marca en esta recta numérica la altura de cada una de las montañas. Para señalar estas alturas pon en la recta numérica:

1º en la marca que corresponde a King Da Ka,

2º en la que corresponde a Steel Dragon y

3º en Top Thrill.



3. El parque en el que está Steel Dragon cuesta 34 € por persona. Una familia de 4 miembros ha sacado las entradas y ha pagado con un billete de 200 euros. ¿Con cuál de estas expresiones sabemos cuánto les devuelven?

A. $200 - (34 \times 4) =$

B. $200 \times 4 - 34$

C. $200 - 34 \times 4$

D. $200 \times 4 - 34 \times 4$

Realiza la operación y contesta. ¿Cuánto le devuelven?

$200 - (34 \times 4) = 200 - 136 = 64$ euros

ÁREA: FRANCÉS

1. Complète avec *le, l' ou les*.

Moi, j' aime bien **les** langues étrangères et je déteste **l'** informatique.

Moi, j' aime bien **l'** histoire-géo et j' aime beaucoup **le** français.

2. Répondre a las preguntas.

a) Quelle l' heure est-il? **Il est dix heures cinq**

b) Quelle l' heure est-il? **Il est huit heures**

c) Quelle l' heure est-il? **Il est deux heures moins sept**

d) Quelle l' heure est-il? **Il est douze heures moins vingt**

ÁREA: INGLÉS

27th April

Answer the questions:

- 1.- They are Mark and Nicole
- 2.- They are in the park
- 3.- He gets up at 7:45 (quarter to eight)
- 4.- He starts school at 9 o'clock
- 5.- He has breakfast at 8:15 (quarter past eight)
- 6.- He eats eggs, milk and toasts for breakfast
- 7.- He leaves home at 8:40 (quarter to nine)
- 8.- He has lunch in the cafeteria
- 9.- He has dinner at seven o'clock
- 10.- He goes cycling
- 11.- Yes, he has a sister.

ÁREA: ED. FÍSICA

MARTES

ÁREA: LENGUA

COPIA LOS ENUNCIADOS DE LAS ACTIVIDADES EN TU CUADERNO Y REALÍZALAS.

1. Copia las palabras con la vocal que falta. Añade la tilde cuando corresponda.



2. Subraya los adjetivos de las siguientes oraciones e indica su grado, como en el ejemplo.

- Mi lápiz es más grueso que el tuyo. *Grueso: adjetivo en grado comparativo de superioridad*
- Eres tan alta como mi hermana. *Alta: adjetivo en grado comparativo de igualdad*
- Este libro es divertidísimo. *Divertidísimo: adjetivo en grado superlativo absoluto*
- Esta naranja es la menos ácida. *Ácida: adjetivo en grado superlativo relativo*

3. Copia las afirmaciones que son correctas.

- Los prefijos y los sufijos son morfemas derivativos que se añaden a la raíz y aportan un significado nuevo.
- Si un diptongo formado por vocal abierta y cerrada lleva tilde, esta va en la vocal abierta.

ÁREA: MATEMÁTICAS

4. Partiendo de los datos de la "Montaña rusa más grande del mundo", crea tu propia montaña rusa que cumpla estas condiciones y completa la tabla.

	altura	longitud	caída	velocidad
tu montaña rusa	417 m	2.627 m	673 m	242 kilómetros por hora

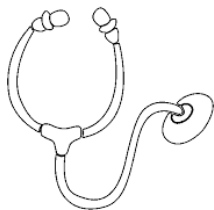
ÁREA: INGLÉS

28TH April

WRITE YOUR DAILY ROUTINE

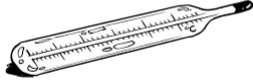
ÁREA: NATURALES

1. El estetoscopio lo utiliza el médico para:



- A) Conocer la temperatura del cuerpo.
- B) Escuchar los latidos del corazón.**
- C) Ver el interior de nuestros oídos.

2. El termómetro lo utilizamos para:



- A) Conocer la temperatura del cuerpo.**
- B) Escuchar los latidos del corazón.
- C) Ver el interior de nuestros oídos.

3. El otoscopio sirve para:



- A) Conocer la temperatura del cuerpo.
- B) Escuchar los latidos del corazón.
- C) Ver el interior de nuestros oídos.**

ÁREA: SOCIALES

Lee la página 16 del libro y responde a las preguntas:

¿Qué mares y océanos rodean a la península?

Mar Cantábrico. Mar Mediterráneo. Océano Atlántico

¿Qué cordillera separa la península de Francia?

Los Pirineos

¿Qué diferencia hay entre la costa atlántica gallega y la costa atlántica andaluza?

La Costa Atlántica Gallega se caracteriza por ser alta, rocosa y muy recortada, mientras que la andaluza es baja y arenosa donde se han formado playas, dunas y marismas.

ÁREA: LENGUA

COPIA LOS ENUNCIADOS DE LAS ACTIVIDADES EN TU CUADERNO Y REALÍZALAS.

4. Lee el siguiente fragmento extraído de una obra fantástica y contesta.

En los últimos días de Narnia, muy al oeste, pasado el Erial del Farol y cerca de la gran cascada, vivía un mono. Era tan viejo que nadie recordaba cuándo había ido a vivir a aquel lugar, y era el mono más listo, feo y arrugado que pueda imaginarse.

Tenía una casita de madera y cubierta con hojas, en lo alto de la copa de un árbol enorme, y su nombre era Triquiñuela. No había demasiadas bestias parlantes, ni hombres, ni enanos, ni seres de ninguna clase en aquella parte del bosque, pero Triquiñuela tenía un amigo y vecino, que era un asno llamado Puzzle.

Las crónicas de Narnia VII: *La última batalla*, Destino

¿Qué tipo de texto narrativo es el anterior?

Cuento Novela

5. Subraya los adjetivos del texto. Después, copia aquellos adjetivos que no estén en grado positivo e indica su grado.

Tan viejo: viejo es el adjetivo y está en grado superlativo absoluto. (No confundir con el grado comparativo que sería tan...como, en este caso dice tan...que y no lo compara con nada, el **tan** indica que era **muy** viejo).

Más listo, feo y arrugado que: están en grado comparativo de superioridad.

6. Copia, al menos, tres palabras con diptongo y tres con hiato del texto.

Palabras con diptongo	Palabras con hiato
Narnia, erial, viejo, nadie, pueda, cubierta, Triquiñuela, demasiadas, bestias	Día, oeste, vivía, feo, había y tenía

ÁREA: MATEMÁTICAS

5. Coloca los siguientes sumandos en vertical, calcula y escribe el resultado con palabras. (Cuida la ortografía y no olvides

poner tilde si la lleva)

$56.327 + 1.406 = 57.733$ Cincuenta y siete mil setecientos treinta y tres

$428.631 + 235 + 63.724 = 492.590$ Cuatrocientos noventa y dos mil quinientos noventa

6. Resuelve la siguiente expresión con paréntesis y redondea a las unidades de millar.

$(37.568 - 2.346) - 21.347 = 13.875$ Redondeo a la UM = 14.000

7. Halla los productos de estas multiplicaciones y ordena los resultados de menor a mayor.

a) $1.247 \times 30 = 37.410$

b) $324 \times 102 = 33.048$

c) $849 \times 49 = 41.601$

d) $507 \times 73 = 37.011$

$33.048 < 37.011 < 37.410 < 41.601$

ÁREA: INGLÉS

29th April

By email when you have time

ÁREA: RELIGIÓN/ALTERNATIVA

Religión: Enviar a mi correo para corrección.

ALTERNATIVA: ENVIAR LA TAREA AL CORREO teresarodriguez.ceipameliavega@gmail.com para corrección.

ÁREA: ED. FÍSICA

ÁREA: LENGUA

COPIA LOS ENUNCIADOS DE LAS ACTIVIDADES EN TU CUADERNO Y REALÍZALAS.

7. Escribe las siguientes palabras en su grupo correspondiente destacando su prefijo y su sufijo en otro color:

reportero biociencia consultorio antiácido precocinar escritor

Palabras con prefijo: antiácido, biociencia, precocinar

Palabras con sufijo: reportero, consultorio, escritor

8. Añade los siguientes prefijos a las raíces de estas palabras y forma nuevas palabras:

re- bis- ante- pre- ayer abuelo universitario cortar

Palabras nuevas: anteayer, bisabuelo, preuniversitario, recortar.

9. Separa las siguientes palabras con sufijos en morfemas, como en el ejemplo.

Ejemplo: come-dor

- Regadera: rega-dera
- Matemático: matemát-ico
- Papelería: papel-ería
- Calculadora: calcula-dora

ÁREA: SOCIALES

Mira en la página 19 y responde a las preguntas:

¿Qué mar u océano baña el archipiélago canario?

Océano Atlántico

¿Qué costas rodean la península?

Costa Cantábrica. Costa Mediterránea y Costa Atlántica

Diferencia entre la costa mediterránea valenciana y la Costa mediterránea andaluza.

La Costa mediterránea valenciana, en general, es baja y arenosa y la andaluza alterna zonas llanas con acantilados.

Busca una playa a la que hayas ido, y di a qué zona costera pertenece.

Libre elección.

ÁREA: NATURALES

1. ¿Qué personas cuidan de tu salud? Rodea las respuestas correctas.

DENTISTA

PELUQUERO

CIRUJANO

POLICÍA

DOCTORA

OCULISTA

CAMIONERO

DEPORTISTA

2. Asocia cada nombre con su dibujo:

POMADA



JARABE



CAPSULA



PASTILLAS



3. Para ir en coche, los niños y niñas pequeños deben usar (rodea las correctas):

Silla elevadora casco mochila cuna biberón cinturón de seguridad

ÁREA: INGLÉS /artística

MAKE YOUR HEART AND GIVE IT TO SOMEONE IN YOUR FAMILY.

ÁREA: MATEMÁTICAS

8. Realiza estas divisiones y señala sus términos. Indica si son enteras o exactas.

a) $8.800 : 352 = 25$

Dividendo \rightarrow 8.800 Divisor \rightarrow 352 Cociente \rightarrow 25 Resto \rightarrow 0

Es una división EXACTA.

b) $17.421 : 562 =$

Dividendo \rightarrow 17.421 Divisor \rightarrow 562 Cociente \rightarrow 30, 998....

Es una división ENTERA.

9. Resuelve las siguientes operaciones:

a) $(36 - 21) : 15 = 15 : 5 = 3$

b) $7 + 16 : 4 = 7 + 4 = 11$

c) $(444 - 30) : (17 + 6) = 414 : 23 = 18$

