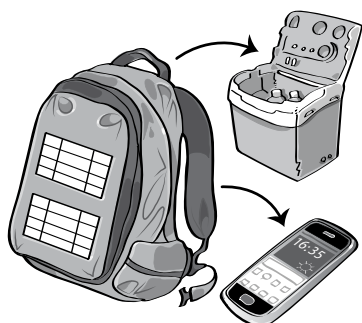
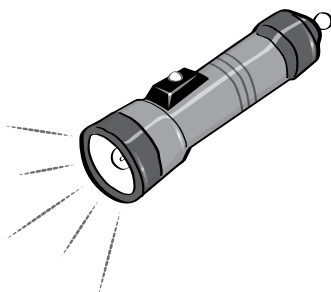


Ana y su familia van a pasar un fin de semana de acampada en un espacio natural protegido. Solo pueden llevar sacos de dormir y mochilas con los siguientes objetos.




Una mochila con placa solar para cargar una pequeña nevera eléctrica y el teléfono móvil.



Una linterna con pilas para alumbrar por la noche.



Un hornillo de gas para calentar la comida.



Una caja de cerillas para encender el hornillo.

1 Completa esta tabla con las fuentes de energía que utiliza la familia de Ana en su acampada.

OBJETOS	FUENTE DE ENERGÍA
Linterna
Hornillo
Nevera
Teléfono móvil
Caja de cerillas

2 Ana relaciona las fuentes de energía con algunos de los elementos que observa a su alrededor. Indica si son renovables o no renovables.

Sol
Petróleo
Viento
Carbón

Biomasa
Agua
Gas
Uranio

3 Ana ha llevado a la excursión una linterna que funciona con pilas. Sin embargo, hay otro tipo de linternas que funcionan de forma manual al girar muchas veces una manivela. ¿Utilizan la misma fuente de energía ambas linternas?

.....

.....

.....